


Ниво 3.

1. Миланко је имао 3 новчанице по 2 000, 3 новчанице по 5 000 и 4 новчанице по 200 динара. Првог и другог дана је потрошио 15 558, првог и трећег дана је потрошио 11 863 динара. Колико је потрошио свакога дана?

2. Ако данас имам 25 111 динара, а јуче сам имао 27 534 динара. И ако сигурно знам да ћу сутра имати 12 045 динара. Колико сам новца потрошио првог, колико другог дана, а колико укупно?




Изрежи слагалицу , затим од делова на којима се налазе решења сложи слику.

Ниво 3.

1. Миланко је имао 3 новчанице по 2 000, 3 новчанице по 5 000 и 4 новчанице по 200 динара. Првог и другог дана је потрошио 15 558, првог и трећег дана је потрошио 11 863 динара. Колико је потрошио свакога дана?

2. Ако данас имам 25 111 динара, а јуче сам имао 27 534 динара. И ако сигурно знам да ћу сутра имати 12 045 динара. Колико сам новца потрошио првог, колико другог дана, а колико укупно?



Изрежи слагалицу , затим од делова на којима се налазе решења сложи слику.

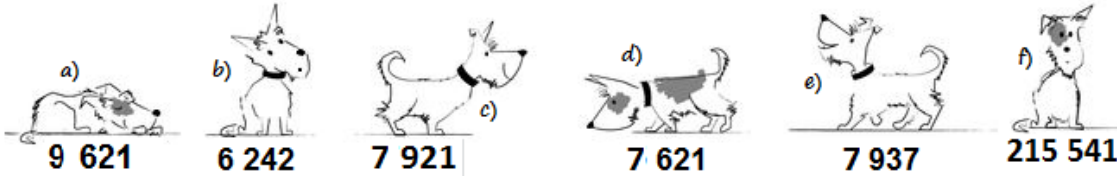
Ниво 2.

1. Збир бројева 365123 и 45654, смањи за број 195236.

2. Никола је за рођендан добио 21 000 динара. У продавници је купио таблет рачунар по цени од 7 065 динара. На акцији је био и фото апарат по цени од 6 014 динара. Никола није одолео па је купио и фото апарат. Колико му је остало новца?



На изложби паса Марко је повео своја два пса. Ако тачно решиш задатке открићеш које два пса припадају Марку.

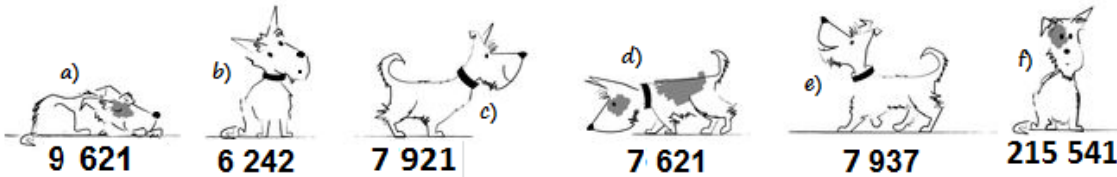
**Ниво 2.**

1. Збир бројева 365123 и 45654, смањи за број 195236.

2. Никола је за рођендан добио 21 000 динара. У продавници је купио таблет рачунар по цени од 7 065 динара. На акцији је био и фото апарат по цени од 6 014 динара. Никола није одолео па је купио и фото апарат. Колико му је остало новца?



На изложби паса Марко је повео своја два пса. Ако тачно решиш задатке открићеш које два пса припадају Марку.



Ниво 1.

1. Израчунај:

$$\begin{array}{r} 45\ 362 \\ - 15\ 894 \\ \hline \end{array}$$

$$\begin{array}{r} 6\ 111 \\ - 4\ 200 \\ \hline \end{array}$$

$$\begin{array}{r} 123\ 569 \\ - 2\ 451 \\ \hline \end{array}$$

$$\begin{array}{r} 73\ 251 \\ - 19\ 876 \\ \hline \end{array}$$

2. У магацину је чувано 54 132 килограма брашна. За прва три дана продато је 12 114 кг брашна. Колико је килограма брашна остало у магацину?



G	I	L	U	A	R	P	O
53 375	1 911	11 911	122 118	29 648	121 118	29 468	42 018

Ако тачно решиш задатке открићеш име ове слатке куце.

Ниво 1.

1. Израчунај:

$$\begin{array}{r} 45\ 362 \\ - 15\ 894 \\ \hline \end{array}$$

$$\begin{array}{r} 6\ 111 \\ - 4\ 200 \\ \hline \end{array}$$

$$\begin{array}{r} 123\ 569 \\ - 2\ 451 \\ \hline \end{array}$$

$$\begin{array}{r} 73\ 251 \\ - 19\ 876 \\ \hline \end{array}$$

2. У магацину је чувано 54 132 килограма брашна. За прва три дана продато је 12 114 кг брашна. Колико је килограма брашна остало у магацину?



G	I	L	U	A	R	P	O
53 375	1 911	11 911	122 118	29 648	121 118	29 468	42 018

Ако тачно решиш задатке открићеш име ове слатке куце.